

Question N° : 01

Corrigé type

Citez trois formes d'évolution du village Kabyle ? 1.5 pts

- Villages traditionnel en ruine.(0.5)
- Villages avec une extension moyenne du cadre bâti.(0.5)
- Villages avec une extension rapide qui donne des centres ruraux « bourg » (0.5)

Question N° :02

Quels sont les inconvénients urbains de la politique des grands ensembles ? (3pts)

- Les quartiers sont monofonctionnels (habitation) ce qui leur vaut le surnom de cités dortoirs. (0.5)
- Les quartiers sont isolés de la ville (problèmes de transport, éloignement des centres d'activité) (0.5)
- Absence d'activités ou d'équipement publics. (0.5)
- la non définition des rues et la non qualification des espaces publique(0.5)
- Le gaspillage de l'espace urbain. (0.5)
- Absence de dissociation entre l'espace public et l'espace privé.(absence de marquage de seuils) (0.5)

Question N°03 : Citez

Deux exemples de ZHUN à Bejaia : Sidi Ahmed – Ihadaden (0.5)

Deux exemples de quartier informel à Bejaia : Tassath et Tizi(0.5)

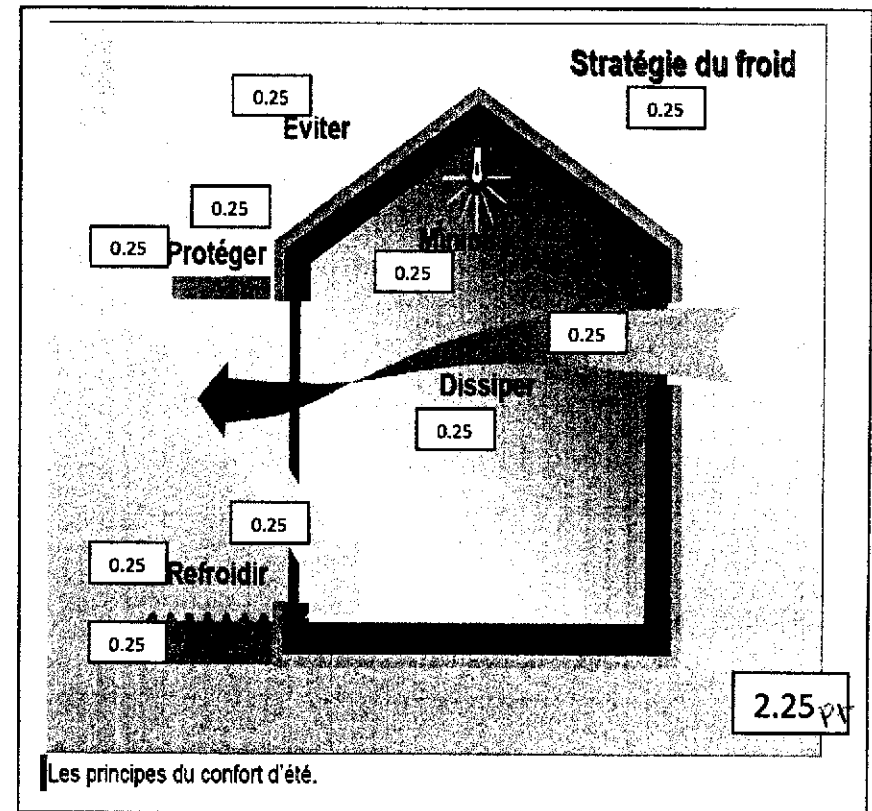
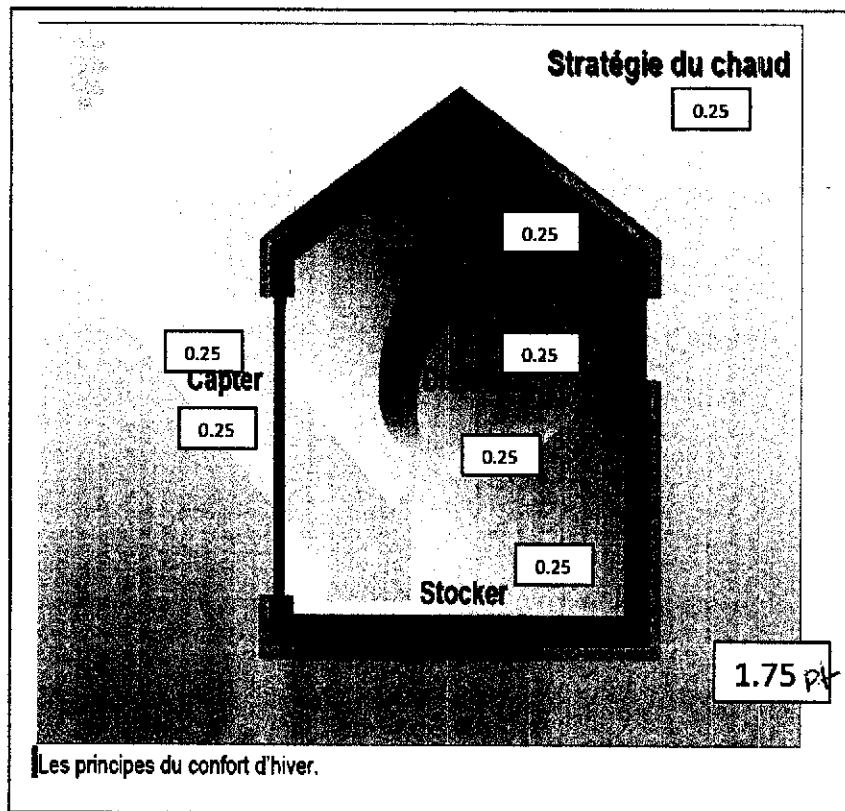
Un exemple de grand ensemble à Bejaia : Amimoun (0.25)

Un exemple de bibon-ville. Chok lagdad à setif, Bedon ville à Takriet, (0.25)

Question N° 04 : Expliquez comment Le logement devient une simple unité fonctionnelle isolée dans le tissu urbain des ZUHN. (3pt)

L'organisation générale des ZHUN donne des espaces résiduels vastes difficilement gérables par les habitants(1pts). Ce qui entraînera la perte de la notion du lieu, engendrant ainsi la perte de la ville accentuée (1pt) par l'absence de la hiérarchie dans la composition de l'ensemble.(1pt)

Question N°05 : Quelles sont les stratégies adopté pour obtenir confort thermique à l'intérieur d'un espace (schématisez)? 4 pts



Question N° 06 : -a) complétez le schéma ci-dessous.(3pts)

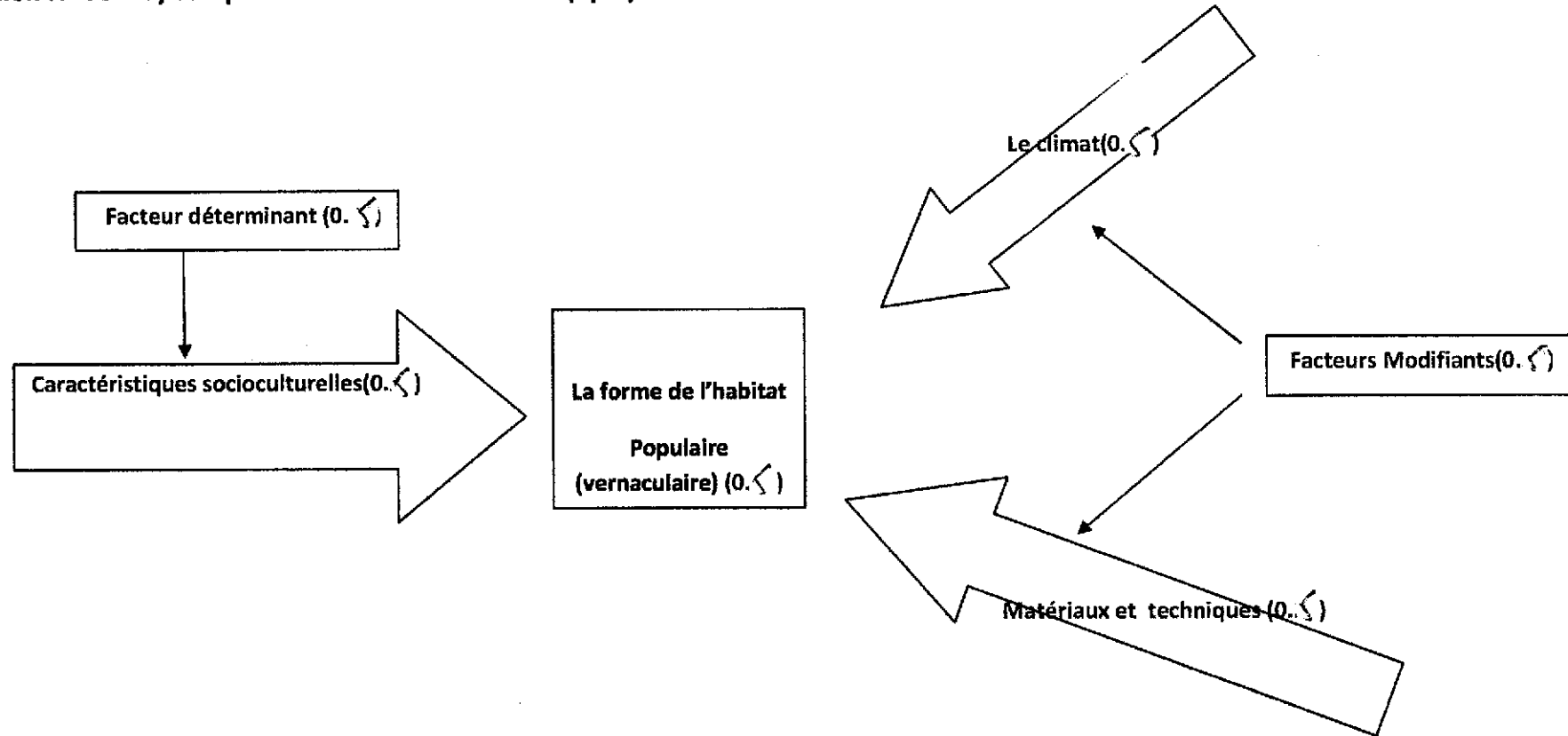


Schéma récapitulatif de l'étude d'Amos Rapoport sur l'habitat populaire(0.25) : « Pour une anthropologie de la maison »(0.75)