

# CORRIGES DES SERIES DE TD 1 A 4

## SERIE1

### Exercice1

Rappel de cours :

- Deux résistances sont en série sont parcourues par le même courant, le nœud qui les relie ne mène vers aucune autre branche.
- Deux résistances sont en parallèle sont reliées à leurs deux bornes. Elles ont la même tension à leurs bornes



En série



non en série



en parallèle



non en parallèle

Delà, il en ressort que

**Fig.1**

1. R1 n'est pas en série avec R2
2. R4 est en série avec R5
3. R1 n'est pas en parallèle avec R4
4. R2 est en parallèle avec R3

**Fig.2**

Il n'y a ni résistances en série, ni résistances en parallèle

### Exercice2

**Fig.3**

Rappel : Loi d'Ohm  $U = RI, I = U/R$

$$I_{R1} = 5V/1k\Omega = 5 \text{ mA}$$

$$I_{R2} = 2V/400\Omega = 5 \text{ mA}$$

$$I_{R3} = 3V/600\Omega = 5 \text{ mA}$$

Les trois résistances sont en série, elles sont parcourues par le même courant

**Fig.4**

$$U_{R1} = U_{R2} = U = R_1 * I_1 = R_2 * I_2 = (R_1 // R_2) * I$$

$$I = I_1 + I_2$$

→

$$I_1 = I \frac{R_2}{R_1 + R_2} \quad I_2 = I \frac{R_1}{R_1 + R_2}$$

**Fig.5**

$$U_{R1} = U_{R2} = U_{R3} = U = R_1 * I_1 = R_2 * I_2 = R_3 * I_3 = (R_1 // R_2 // R_3) * I$$

$$I = I_1 + I_2 + I_3$$

→

$$I_1 = I \frac{R_2 // R_3}{R_1 + (R_2 // R_3)} \quad I_2 = I \frac{R_1 // R_3}{R_2 + (R_1 // R_3)} \quad I_3 = I \frac{R_1 // R_2}{R_3 + (R_1 // R_2)}$$

**Formule générale :** la loi du diviseur de courant permet de calculer le courant dans une branche en parallèle avec d'autres branches, connaissant le courant principal. Le calcul simple consiste à ramener le circuit contenant plusieurs branches en parallèle à seulement deux branches : la branche parcourue par le courant à calculer et l'équivalent du reste. Le courant à calculer est égal au courant principal (global) multiplié par la résistance de l'autre branche [de l'équivalent des autres branches s'il y a plusieurs] divisé par la somme des résistances. (attention : somme de la branche concernée et de l'équivalent des autres)

### Exercice3

Fig.6

$$I_{R1}=I_{R2}=I_{R3}=U_{R1}/R_1 = U_{R2}/R_2=U_{R3}/R_3=E/(R_1+R_2+R_3)$$

→

$$U_{R1} = E \frac{R_1}{R_1+R_2+R_3} \quad U_{R2} = E \frac{R_2}{R_1+R_2+R_3} \quad U_{R3} = E \frac{R_3}{R_1+R_2+R_3}$$

Fig.7

Il faut ramener le circuit à une branche contenant  $R_{12} = (R_1//R_2)$  et  $R_3$ .

Rappel : une branche est un ensemble de dipôles en série

$$U_{R1} = U_{R2} = E \frac{R_1//R_2}{(R_1//R_2)+R_3} \quad U_{R3} = E \frac{R_3}{(R_1//R_2)+R_3}$$

La résistance  $R_3$  n'est en série ni avec  $R_1$  ni avec  $R_2$ . Elle est en série avec  $(R_1//R_2)$  avec qui elle constitue une branche.

**Formule générale :** La loi du diviseur de tension permet de calculer la tension aux bornes d'un élément d'une branche. La tension aux bornes d'un élément d'une branche est égale à la tension globale multipliée par la résistance de l'élément (aux bornes duquel règne la tension à calculer) divisée par la résistance globale (somme des résistances de la branche)

### Exercice4

Fig.9 On applique le diviseur de courants

$$I = 10mA \cdot \frac{R}{R+r} = 10mA \cdot \frac{1k\Omega}{1k\Omega+1k\Omega} = 5mA$$

$$U = 12V \cdot \frac{1k\Omega}{1k\Omega+100\Omega} = 12 \times 0,91 = 10,9V$$

$$\bar{I} = 10mA \cdot \frac{r}{R+r} = 10mA \cdot \frac{100\Omega}{100\Omega+1k\Omega} \approx 10mA$$

$$U = 12V \cdot \frac{1k\Omega}{1k\Omega+1\Omega} \approx 12V$$

Fig 9

Fig 10

La résistance de la source dans le premier cas n'est pas grande, on ne peut pas parler de source de courant à proprement parler

La résistance de la source dans le second cas est assez grande, le courant  $I$  est assez proche du courant de la source.

Fig.10 On applique le diviseur de tensions

La résistance de la source dans le premier cas est grande, on ne peut pas parler de source de tension à proprement parler

La résistance de la source dans le second cas est assez faible, la tension  $U$  est assez proche de la fem de la source.

Fig 11

$$\text{Puissance } P = R \cdot I^2 = U \cdot I = U^2/R$$

$$I = E/(R+r)$$

$$\rightarrow P = ER/(R+r)^2$$

$P$  maximale si sa dérivée est nulle. Cela est réalisé pour  $R = r$

La source délivre la puissance maximale lorsqu'elle est chargée par une résistance égale à sa résistance interne

### Exercice 5

$$U = RI \Rightarrow I = \frac{U}{R}$$

Pour U donné, I est inversement proportionnel à R

Donc le courant dans la résistance de 1k $\Omega$  est plus grand que dans celui de la résistance de 2k $\Omega$  ( $I_1 > I_2$ )

$$U = RI \quad \text{Pour I donné, U est proportionnelle à R}$$

La tension est plus grande dans la résistance la plus grande d'une branche  $U_1 > U_2$

### Exercice 6

\* Fig. 14  $U = 0$  court-circuit  $\Rightarrow I = 0$

la première résistance est court-circuitée, la tension à ses bornes est nulle et son courant est aussi nulle - Elle ne joue aucun rôle (il faut la retirer)

on aura alors  $U' = 12V$

\* Fig 15 Il y a circuit ouvert  $\Rightarrow I = 0$

la résistance supérieure ne joue aucun rôle (Faut la retirer) - on aura alors  $U = 12V$

Règle : tout élément court-circuité (ses 2 bornes reliées ensemble) ou en circuit ouvert (une de ses bornes en l'air, non reliée) doit être retiré du circuit. Il ne joue aucun rôle (son courant est nul, la tension à ses bornes est nulle)

### Exercice 7

En parallèle,  $\frac{1}{R_{eq}} = \sum \frac{1}{R_i}$

$$\Rightarrow \frac{1}{R_{eq}} > \frac{1}{\min(R_i)} \quad \text{Donc } R_{eq} < \min(R_i)$$

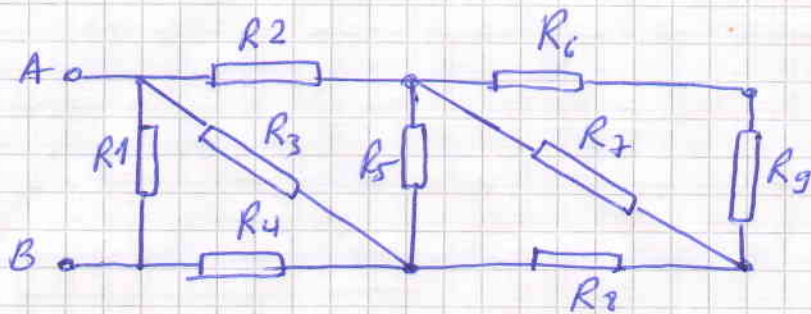
### Exercice 8

En série  $R_{eq} = \sum R_i$

$$\Rightarrow R_{eq} > \max(R_i)$$

## Exercice 9

L'astuce ici est d'éviter de commencer par les extrémités et de remarquer que les 2 résistances de  $1\Omega$  à droite sont en série



$R_6$  en série avec  $R_9$  — le tout parallèle avec  $R_7$   
 $((R_6 + R_9) // R_7)$  en série avec  $R_8$  — le tout parallèle avec  $R_5$   
 $[(((R_6 + R_9) // R_7) + R_8) // R_5]$  en série avec  $R_2$  — le tout parallèle avec  $R_3$

$((((R_6 + R_9) // R_7) + R_8) // R_5) + R_2 // R_3]$  en série avec  $R_4$

$$R_{AB} = (((R_6 + R_9) // R_7) + R_8) // R_5 + R_2 // R_3 + R_4 // R_1$$

$$\frac{\frac{1+1}{2} // 8}{\frac{1+1}{2} // 2} + \frac{1}{2} // 2 = 1\Omega$$

$$R_{AB} = 1\Omega$$

## Serie 2

### Exercice 1

\*  $R_{AB} = R_a$  Tout ce qui est à droite de B est en l'air

\*  $R_{AC} = R_a + [R_c \parallel (R_b + R_d)] = R_{AB} + R_{BC}$

Entre B et C on voit  $R_c$  en parallèle avec  $(R_b + R_d)$

\*  $R_{BC} = R_c \parallel (R_b + R_d)$  -  $R_a$  est en l'air

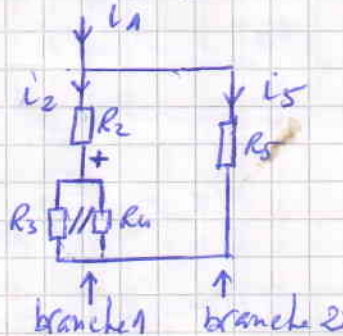
\*  $R_{CD} = R_d \parallel (R_b + R_c)$   $R_a$  en l'air

### Exercice 2

\* Diviseur de courant : se ramener toujours à 2 branches en parallèle. Le courant dans une branche est égal au courant global multiplié par la résistance de l'autre branche,

$i_2$  : il dérive de  $i_1$

$$i_2 = i_1 \times \frac{R_5}{R_5 + R_2 + (R_3 \parallel R_4)}$$



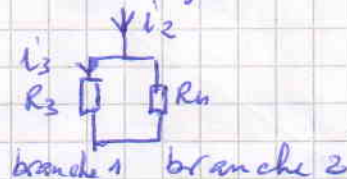
global multiplié par la résistance de l'autre branche,

divisé par la somme des résistances des 2 branches

$i_3$  ne dérive pas

directement de  $i_1$ , on calcule  $i_3$  en fonction de  $i_2$ , duquel il dérive d'abord.

$$i_3 = i_2 \cdot \frac{R_4}{R_4 + R_3}$$



remplacer ensuite  $i_2$

obtenu de l'expression précédente  $\Rightarrow i_3 = \frac{R_4}{R_4 + R_3} \cdot \frac{R_5 \cdot i_1}{R_5 + R_2 + (R_3 \parallel R_4)}$

$i_5$  il dérive de  $i_1$

$$i_5 = i_1 \cdot \frac{R_2 + (R_3 \parallel R_4)}{R_5 + R_2 + (R_3 \parallel R_4)}$$

NB Vérifier que  $i_1 = i_2 + i_5$

\* Diviseur de tension : se ramener à une branche (= ensemble de dipôles en série). Si un élément de la branche est composé de plusieurs éléments en association série, parallèle, prendre l'équivalent.

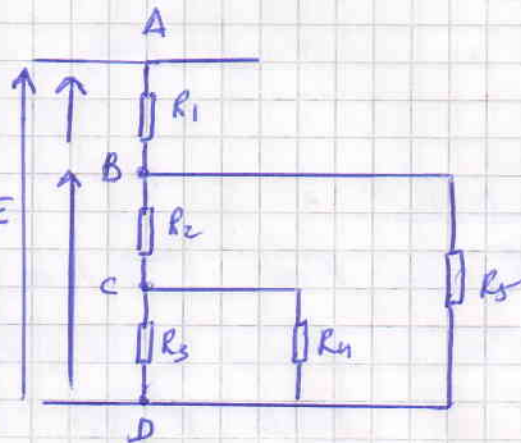
\* Branche AD =

$R_1$  en série avec l'équivalent

$R_{BD}$

$$E = U_{AD} = U_{AB} + U_{BD}$$

$$U_{AD} = E \quad U_{AB} = U_1 \quad U_B = U_5$$



\* Branche BD =  $R_5$  en parallèle avec  $[R_2 + (R_3 \parallel R_4)]$

\*  $U_2$  n'est pas une division directe de  $E = U_{AB}$   
 $U_1$  et  $U_5$  sont des divisions directes de  $E$

\* Le diviseur de tension s'applique à  $E$ ,  $U_1$  et  $U_5$  (Branche AD)  
 Il s'applique aussi à  $U_5$ ,  $U_2$ ,  $U_3$ ,  $U_4$  (Branche BD)

\*  $U_2$  ne peut pas être calculé directement de  $U_{AD} = E$   
 $U_3 = U_4 =$  divisions directes de  $U_5$

$$\Rightarrow \text{Branche AD} \quad U_1 = \frac{E \cdot R_1}{R_{AD}} = E \cdot \frac{R_1}{R_1 + [R_5 \parallel (R_2 + (R_3 \parallel R_4))]}$$

$$U_5 = U_{BD} = E \cdot \frac{R_5 \parallel (R_2 + (R_3 \parallel R_4))}{R_1 + [R_5 \parallel (R_2 + (R_3 \parallel R_4))]}$$

NB Vérifier que  $U_1 + U_5 = E$

$\Rightarrow$  Branche BD = 2 branches en parallèle

$R_5$  et  $[R_2 + (R_3 \parallel R_4)]$

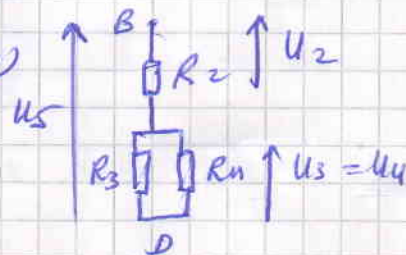
↓  
 1 seul élément

↓  
 plusieurs éléments

on prend la branche  $R_2 + (R_3 \parallel R_4)$

$$U_2 = U_5 \cdot \frac{R_2}{R_2 + (R_3 \parallel R_4)}$$

$$U_4 = U_3 = U_5 \cdot \frac{(R_3 \parallel R_4)}{R_2 + (R_3 \parallel R_4)}$$



NB Vérifier que  $U_2 + U_3 = U_5$

### Exercice 3 Fig. 3

- \* Que des sources de courant
- les 2 courants s'ajoutent
- $r$  et  $p$  sont en parallèle

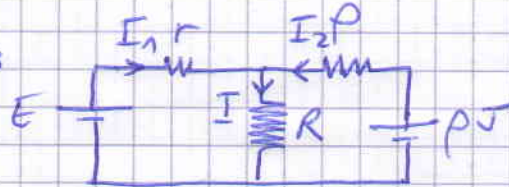


$$\frac{E}{r} + J = \frac{2}{10} + 0,1 = 0,3 \text{ A}$$

$$r \parallel p = \frac{10 \cdot 1000}{10 + 1000} = \frac{1000}{101} \Omega$$

$$I = \left( \frac{E}{r} + J \right) \times \frac{(r \parallel p)}{(r \parallel p) + R} = \frac{1}{37} \text{ A}$$

- \* Que des sources de tensions



- Lois de Kirchhoff

$$\begin{cases} E = R(I_1 + I_2) + rI_1 = (R+r)I_1 + RI_2 \\ pJ = R(I_1 + I_2) + pI_2 = RI_1 + (R+p)I_2 \end{cases}$$

$$\text{Soit } \begin{cases} 2 = 110 I_1 + 100 I_2 \\ 100 = 100 I_1 + 1100 I_2 \end{cases} \Rightarrow I = I_1 + I_2 = \frac{1}{37} \text{ A}$$

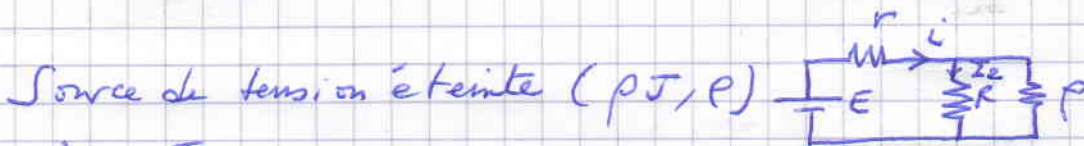
- Théorème de superposition

Source  $(E, r)$  éteinte

$$i = \frac{pJ}{(R \parallel r) + p}$$



$$I_1 = i \cdot \frac{r}{r+R} = \frac{r p J}{(r+R)(rR+p(R+r))} = \frac{r p J}{rR+p(R+r)} = \frac{1}{111} \text{ A}$$



$$i = \frac{E}{r + (p \parallel R)}$$

$$I_2 = i \cdot \frac{p}{p+R} = \frac{E(p+R)}{r(p+R)+pR} \cdot \frac{p}{p+R} = \frac{E p}{pR+r(p+R)} = \frac{2}{111} \text{ A}$$

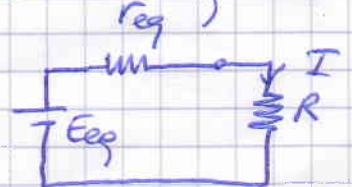
$$\text{Le courant global } I = I_1 + I_2 = \frac{1}{111} + \frac{2}{111} = \frac{3}{111} = \frac{1}{37} \text{ A}$$

- Théorème de Millmann. On peut calculer le générateur équivalent

$$E_{eq} = \frac{\frac{E}{r} + \frac{pJ}{p}}{\frac{1}{r} + \frac{1}{p}} = \frac{EP + r p J}{p + r} = \frac{300}{101} \text{ V}$$

$$r_{eq} = (r \parallel p) = \frac{r p}{r + p}$$

$$I = \frac{E_{eq}}{R + r_{eq}} = \frac{1}{37} \text{ A}$$

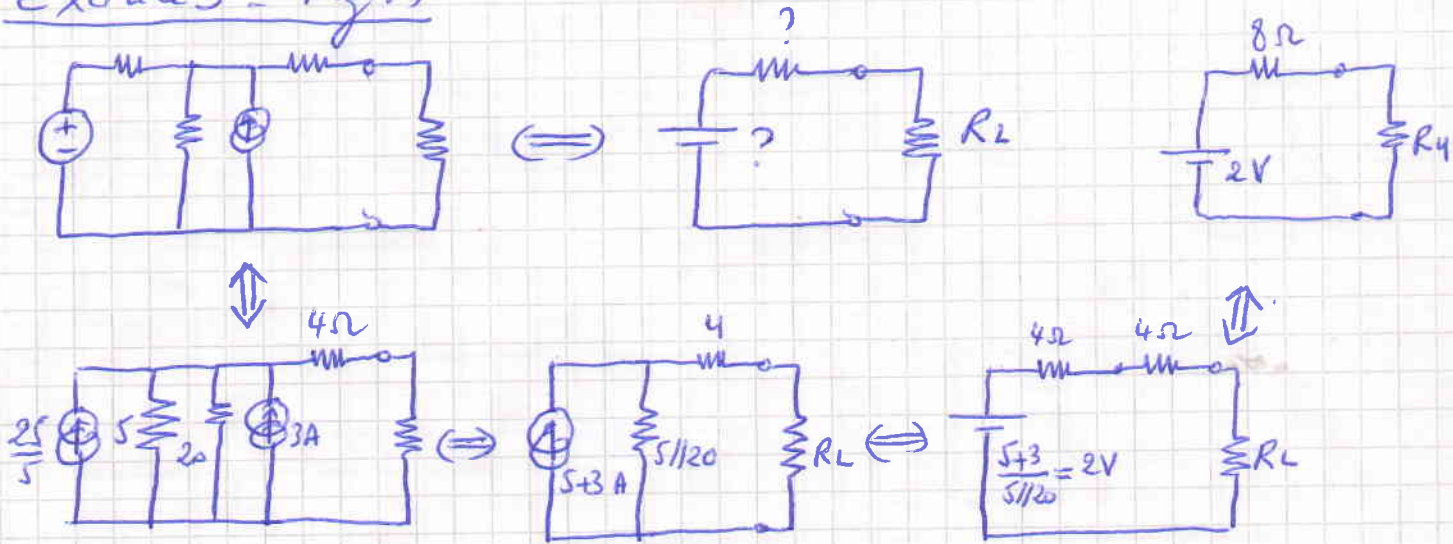


ou bien, on peut calculer directement la tension aux bornes de R

$$U_R = \frac{E + \frac{rJ}{P} + \frac{0}{R}}{\frac{1}{r} + \frac{1}{P} + \frac{1}{R}} = \frac{EPR + rPRJ}{rR + rP + PR}$$

$$I = \frac{U_R}{R} = \frac{P(E + rJ)}{rR + rP + PR} = \frac{3}{111} \text{ A}$$

### Exercice 3 - Fig. 4



### Exercice 4

Mailles indépendantes signifie que les relations qui les décrivent ne peuvent pas être obtenues les unes des autres.

ex

$$\begin{cases} x + y = z & (1) \\ x + 1 = 0 & (2) \\ y - 1 = z & (3) \end{cases} \quad \begin{array}{l} \text{ces 3 équations ne sont pas indépendantes} \\ \text{(elles sont liées)} \\ (1) = (2) + (3), \quad (3) = (1) - (2) \dots \end{array}$$

Résultats : Elles sont insuffisantes pour calculer  $x$ ,  $y$  et  $z$

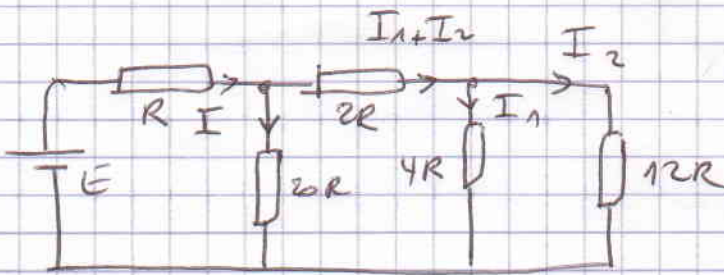
Si on a  $n$  inconnues à calculer, il faut  $n$  équations indépendantes.

La figure 5 comporte 6 mailles, 3 sont indépendantes à chaque fois.

Par la résistance  $20R$  passe un courant

$$\text{égal à } I - I_1 - I_2$$





$$E = 20R(I - I_1 - I_2) + RI$$

$$E = RI + 2R(I_1 + I_2) + 4RI_1$$

$$E = RI + 2R(I_1 + I_2) + 12RI_1$$

$$0 = 20R(I - I_1 - I_2) - 2R(I_1 + I_2) - 4RI_1$$

$$0 = 20R(I - I_1 - I_2) - 2R(I_1 + I_2) - 12RI_1$$

$$0 = 4RI_1 - 12RI_2$$

Equations aux mailles  
avec les courants  $I, I_1, I_2$

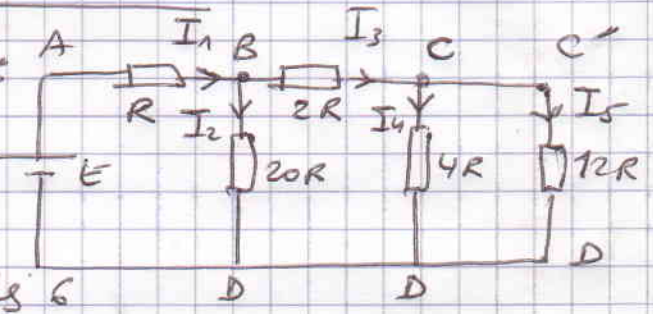
3 équations parmi les 6 suffisent  
pour trouver  $I, I_1, I_2$

Equations avec les courants réels :

⇒ 5 inconnues :  $I_1, I_2, I_3, I_4$  et  $I_5$

⇒ 5 équations

2 nœuds B, C  
3 mailles parmi les 6  
(indépendantes)

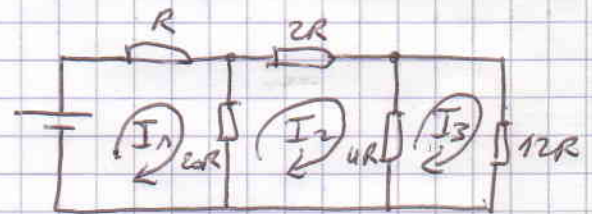


Ex :  $\begin{cases} I_1 = I_2 + I_3 \\ I_3 = I_4 + I_5 \end{cases}$

$$\begin{cases} ABD & E = RI_1 + 20RI_2 \\ ABCD & E = RI_1 + 2RI_3 + 4RI_4 \\ BCD & 0 = 20RI_2 - 2RI_3 - 12RI_5 \end{cases}$$

Equations avec les courants de mailles


3 équations suffisent, celles des  
mailles. Les courants réels se  
déduisent des courants des mailles



Ex  $\begin{cases} E = 20R(I_1 - I_2) + RI_1 \\ E = RI_1 + 2RI_2 + 4R(I_2 - I_3) \\ 0 = 20R(I_1 - I_2) - 2RI_2 - 12RI_3 \end{cases}$

# Exercice 5 Théorème de superposition

appel : \* source de tension



source de tension éteinte



\* source de courant

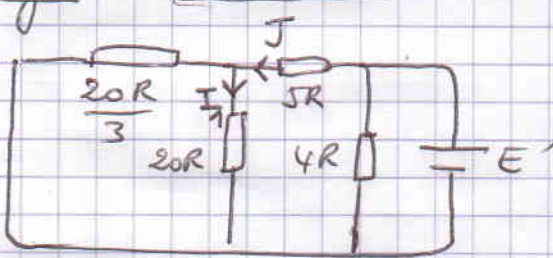


source de courant éteinte



Fig 6

$E$  éteinte

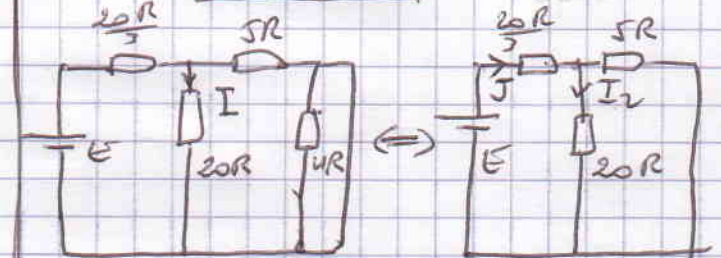


$$I_1 = J \frac{20R/3}{\frac{20R}{3} + 20R} = \frac{J}{4}$$

$$J = \frac{E'}{5R + (\frac{20R}{3} \parallel 20R)} = \frac{E'}{10R}$$

$$I_1 = \frac{E'}{40R}$$

$E'$  éteinte



$$I_2 = J \frac{5R}{5R + 20R} = \frac{J}{5}$$

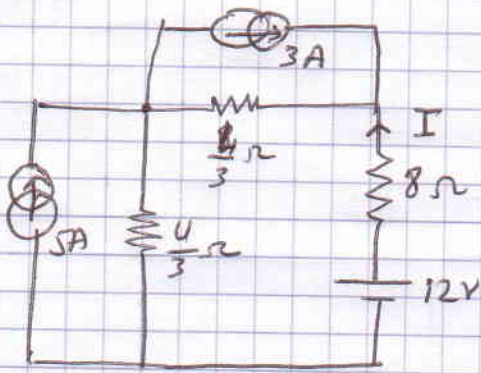
$$J = \frac{E}{\frac{20R}{3} + (5R \parallel 20R)} = \frac{3E}{32R}$$

$$\Rightarrow I_2 = \frac{3E}{160R}$$

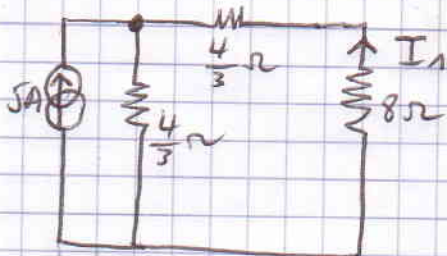
$$I = I_1 + I_2 = \frac{E'}{40R} + \frac{3E}{160R} = \frac{4E' + 3E}{160R}$$

Fig 7

remarque d'abord que les 2 résistances (4 et 2  $\Omega$ ) verticales ainsi que les 2 résistances (4 et 2  $\Omega$ ) horizontales sont en parallèle, il faut donc simplifier le schéma, surtout que le courant à calculer ne traverse aucune des 4 résistances. Soit donc le schéma équivalent suivant: ( $4\Omega \parallel 2\Omega = \frac{4}{3}\Omega$ )



5A active  
3A et 12V éteints

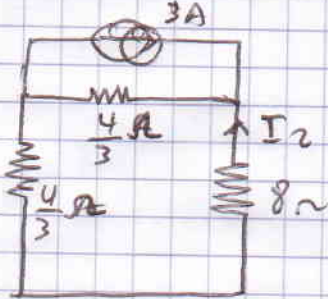


$$I_1 = -5 \cdot \frac{4}{3} \cdot \frac{4}{\frac{4}{3} + \frac{4}{3} + 8}$$

$$I_1 = -\frac{5}{8} \text{ A}$$

Le signe (-) vient du fait que  $I_1$  et le courant de la source sont tous 2 entrants

3A active  
5A et 12V éteints

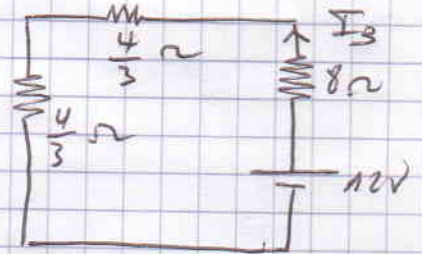


$$I_2 = -3 \cdot \frac{4}{3} \cdot \frac{4}{\frac{4}{3} + \frac{4}{3} + 8}$$

$$I_2 = -\frac{3}{8} \text{ A}$$

à remarquer pour le signe (-)

12V active  
5A et 3A éteints



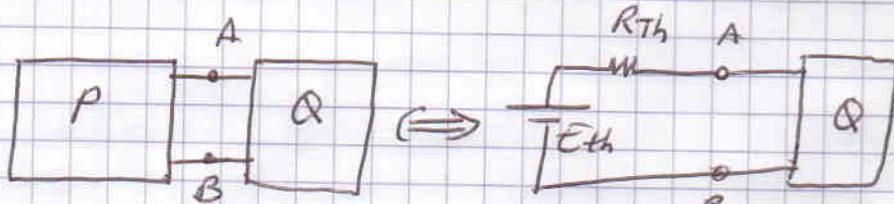
$$I_3 = \frac{12}{8 + \frac{4}{3} + \frac{4}{3}} = \frac{9}{8} \text{ A}$$

$$I = I_1 + I_2 + I_3 = -\frac{5}{8} - \frac{3}{8} + \frac{9}{8} = \frac{1}{8} \text{ A}$$

$I > 0$ , le sens est correct

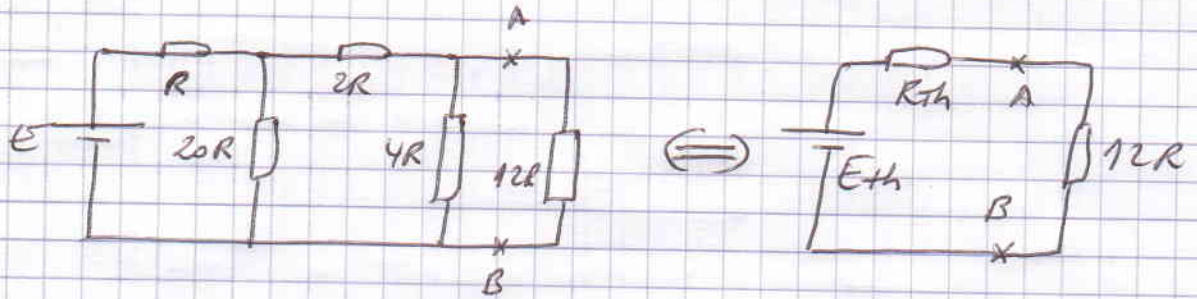
### Exercice 6 : Thévenin

Rappel

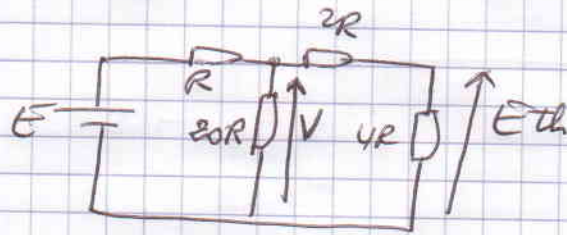


- $E_{th}$  = tension entre A et B, à vide ( $Q$  débranchée)
- $R_{th}$  = résistance entre A et B,  $Q$  débranchée et sources de  $P$  éteintes

Fig 8



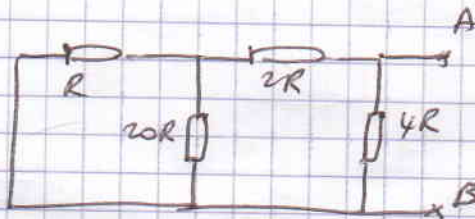
Calcul de  $E_{th}$



$$E_{th} = V \cdot \frac{4R}{2R+4R} = \frac{2}{3} V$$

$$V = E \cdot \frac{20R \parallel (2R+4R)}{R + [20R \parallel (2R+4R)]} = \frac{60E}{73} \quad \Rightarrow E_{th} = \frac{40E}{73}$$


Calcul de  $R_{th}$



$$R_{AB} = R_{th} = 4R \parallel [2R + (20R \parallel R)] = \frac{124}{73} R$$

Fig 9

$E_{th}$



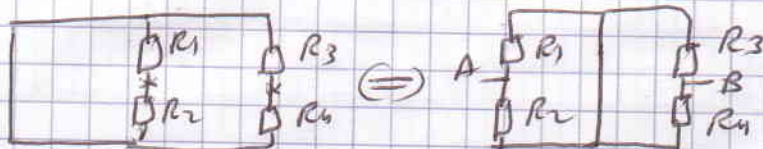
$$E_{th} = U_{AB} = U_A - U_B$$

$$U_A = E \cdot \frac{R_2}{R_1+R_2}$$

$$U_B = E \cdot \frac{R_4}{R_3+R_4}$$

$$\Rightarrow E_{th} = E \cdot \frac{R_2 R_3 - R_1 R_4}{(R_1+R_2)(R_3+R_4)}$$

$R_{th}$



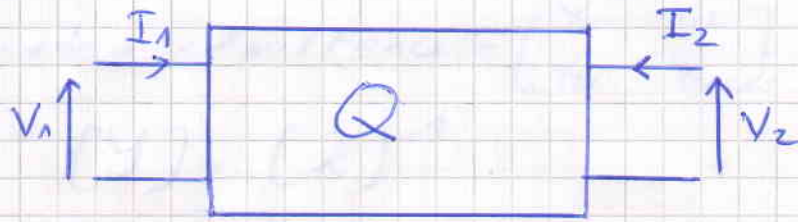
$$R_{th} = (R_1 \parallel R_2) + (R_3 \parallel R_4)$$

Exercice 7

Kennedy non inclus à l'examen

# Corrigé TD3 - Les Quadripôles

## Rappels



Le quadripôle communique par 2 bornes d'entrée et 2 bornes de sortie. Les sens choisis pour les courants sont conventionnels. Il existe 6 manières de représenter les 4 grandeurs ( $V_1, I_1, V_2, I_2$ ) deux à deux en fonction les unes des autres.

1e) Entrées en fonction des sorties : paramètres de chaîne ou de transfert directs

$$\begin{aligned} V_1 &= A V_2 - B I_2 \\ I_1 &= C V_2 - D I_2 \end{aligned} \quad \text{ou} \quad \begin{bmatrix} V_1 \\ I_1 \end{bmatrix} = \begin{bmatrix} A & B \\ C & D \end{bmatrix} \begin{bmatrix} V_2 \\ -I_2 \end{bmatrix}$$

$$[a] = \begin{bmatrix} A & B \\ C & D \end{bmatrix} = \text{matrice de chaîne ou de transfert directe}$$

2e) Sorties en fonction des entrées : paramètres de chaîne ou de transfert inverse

$$\begin{aligned} V_2 &= A' V_1 - B' I_1 \\ I_2 &= C' V_1 - D' I_1 \end{aligned} \quad \text{ou} \quad \begin{bmatrix} V_2 \\ I_2 \end{bmatrix} = \begin{bmatrix} A' & B' \\ C' & D' \end{bmatrix} \begin{bmatrix} V_1 \\ -I_1 \end{bmatrix}$$

$$[a'] = \begin{bmatrix} A' & B' \\ C' & D' \end{bmatrix} = \text{matrice de chaîne ou de transfert inverse}$$

Remarque :  $[a] \neq [a']^{-1}$

3e) Tensions en fonction des courants : paramètres impédances

$$\begin{aligned} V_1 &= Z_{11} I_1 + Z_{12} I_2 \\ V_2 &= Z_{21} I_1 + Z_{22} I_2 \end{aligned} \quad \text{ou} \quad \begin{bmatrix} V_1 \\ V_2 \end{bmatrix} = \begin{bmatrix} Z & \\ & Z \end{bmatrix} \begin{bmatrix} I_1 \\ I_2 \end{bmatrix}$$

$$[Z] = \text{matrice impédance} = \begin{bmatrix} Z_{11} & Z_{12} \\ Z_{21} & Z_{22} \end{bmatrix}$$

4c) Courants en fonction des tensions: paramètres admittances

$$I_1 = Y_{11} V_1 + Y_{12} V_2$$

$$I_2 = Y_{21} V_1 + Y_{22} V_2$$

$$\text{on } \begin{bmatrix} I_1 \\ I_2 \end{bmatrix} = [Y] \begin{bmatrix} V_1 \\ V_2 \end{bmatrix}$$

$$[Y] = \text{matrice admittance} = \begin{bmatrix} Y_{11} & Y_{12} \\ Y_{21} & Y_{22} \end{bmatrix}$$

Remarque  $[Y] = [Z]^{-1}$

5) Paramètres hybrides: mélange entrée/sortie/courant/tension

$$* \begin{cases} V_1 = h_{11} I_1 + h_{12} V_2 \\ I_2 = h_{21} I_1 + h_{22} V_2 \end{cases} \text{ on } \begin{bmatrix} V_1 \\ I_2 \end{bmatrix} = [h] \begin{bmatrix} I_1 \\ V_2 \end{bmatrix}$$

$$[h] = \begin{bmatrix} h_{11} & h_{12} \\ h_{21} & h_{22} \end{bmatrix} = \text{matrice hybride directe}$$

$$* \begin{cases} I_1 = g_{11} V_1 + g_{12} I_2 \\ V_1 = g_{21} V_1 + g_{22} I_2 \end{cases} \text{ on } \begin{bmatrix} I_1 \\ V_1 \end{bmatrix} = [g] \begin{bmatrix} V_1 \\ I_2 \end{bmatrix}$$

$$[g] = \begin{bmatrix} g_{11} & g_{12} \\ g_{21} & g_{22} \end{bmatrix} = \text{matrice hybride inverse}$$

Remarque:  $[g] = [h]^{-1}$

Bien entendu les différents paramètres sont reliés entre eux

	a		z		Y		h	
a	A	B	$\frac{z_{11}}{z_{21}}$	$\frac{\Delta z}{z_{21}}$	$-\frac{Y_{22}}{Y_{21}}$	$-\frac{1}{Y_{21}}$	$-\frac{Dh}{h_{21}}$	$-\frac{h_{11}}{h_{21}}$
c		D	$\frac{1}{z_{21}}$	$\frac{z_{22}}{z_{21}}$	$-\frac{DY}{Y_{21}}$	$-\frac{Y_{11}}{Y_{21}}$	$-\frac{h_{22}}{h_{21}}$	$-\frac{1}{h_{21}}$
z	$\frac{A}{C}$	$\frac{AD-BC}{C}$	$z_{11}$	$z_{12}$	$\frac{Y_{22}}{DY}$	$-\frac{Y_{12}}{DY}$	$\frac{Dh}{h_{22}}$	$\frac{h_{12}}{h_{22}}$
	$\frac{1}{C}$	$\frac{D}{C}$	$z_{21}$	$z_{22}$	$-\frac{Y_{21}}{DY}$	$\frac{Y_{11}}{DY}$	$-\frac{h_{21}}{h_{22}}$	$\frac{1}{h_{22}}$
Y	$\frac{D}{B}$	$-\frac{AD-BC}{B}$	$\frac{z_{22}}{\Delta z}$	$-\frac{z_{12}}{\Delta z}$	$Y_{11}$	$Y_{12}$	$\frac{1}{h_{11}}$	$-\frac{h_{12}}{h_{11}}$
	$-\frac{1}{B}$	$\frac{A}{B}$	$-\frac{z_{21}}{\Delta z}$	$\frac{z_{11}}{\Delta z}$	$Y_{21}$	$Y_{22}$	$\frac{h_{21}}{h_{11}}$	$\frac{Dh}{h_{11}}$
h	$\frac{B}{D}$	$\frac{AD-BC}{D}$	$\frac{\Delta z}{z_{22}}$	$\frac{z_{12}}{z_{22}}$	$\frac{1}{Y_{11}}$	$-\frac{Y_{12}}{Y_{11}}$	$h_{11}$	$h_{12}$
	$-\frac{1}{D}$	$\frac{C}{D}$	$-\frac{z_{21}}{z_{22}}$	$\frac{1}{z_{22}}$	$\frac{Y_{21}}{Y_{11}}$	$\frac{DY}{Y_{11}}$	$h_{21}$	$h_{22}$

## Détermination des paramètres

La détermination des paramètres se fait en prenant les cas particuliers de court-circuit ( $V_1=0$  ou  $V_2=0$ ) et de circuit-ouvert ( $I_1=0$  ou  $I_2=0$ )

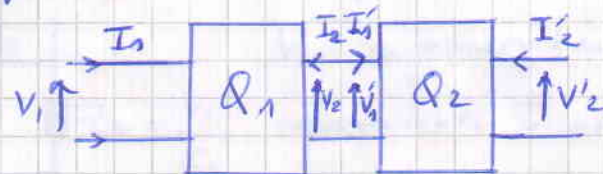
Du point de vue pratique, c'est simple, il suffit de disposer d'un voltmètre et d'un ampèremètre

Du point de vue théorique, il faut bien sûr connaître le circuit

## Association de Quadripôles

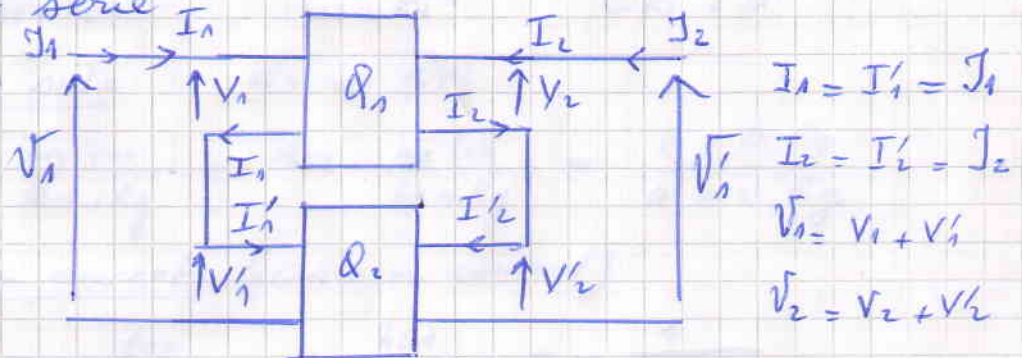
\* association cascade

$$V_2' = V_2 \quad I_1' = -I_2$$



(La matrice) équivalente est égale au produit des matrices de transfert de chacun des quadripôles

\* association série



$$\begin{aligned} I_1 &= I_1' = I_1 \\ I_2 &= I_2' = I_2 \\ V_1 &= V_1 + V_1' \\ V_2 &= V_2 + V_2' \end{aligned}$$

La matrice impédance équivalente est égale à la somme des matrices impédances de chacun des quadripôles

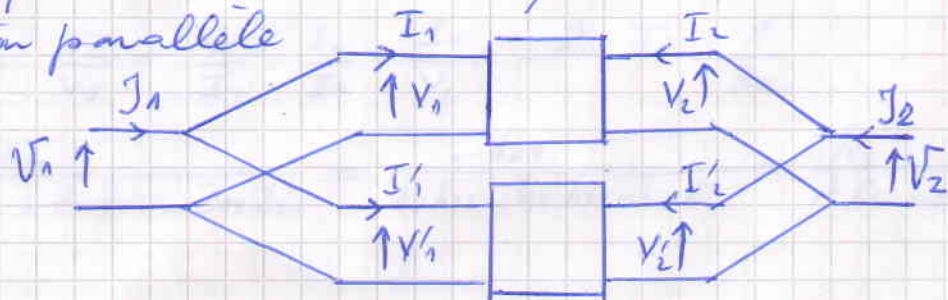
\* association parallèle

$$I_1 = I_1 + I_1'$$

$$I_2 = I_2 + I_2'$$

$$V_1 = V_1 = V_1'$$

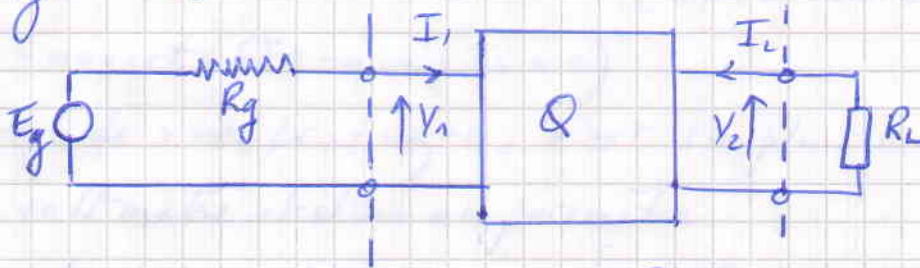
$$V_2 = V_2 = V_2'$$




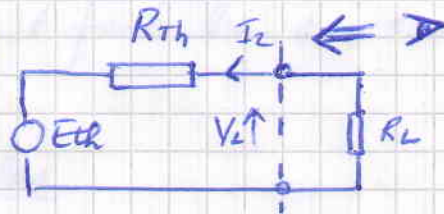
La matrice admittance équivalente est égale à la somme des matrices admittances de chacun des quadripôles

# Le Quadripôle en fonctionnement

Il est ~~cattaque~~ ~~par~~ un signal et chargé par une charge  $R_L$ .



Vu de la charge, il est équivalent à une source et une impédance (voir Thévenin)



Vu du générateur, il est équivalent à une impédance  $Z_e = \frac{V_1}{I_1}$

\* Impédance d'entrée  $Z_e = \frac{V_1}{I_1}$

$$Z_e = Z_{11} - \frac{Z_{12} \cdot Z_{21}}{Z_{22} + R_L} = h_{11} - \frac{h_{12} h_{21}}{h_{22} + R_L^{-1}} = \frac{A R_L + B}{C R_L + D}$$

\* Impédance de sortie  $Z_s = R_{Th}$

$$Z_s = Z_{22} - \frac{Z_{21} Z_{11}}{Z_{11} + R_g} = h_{22} - \frac{h_{12} h_{21}}{h_{11} + R_g} = \frac{B + D \cdot R_g}{A + C \cdot R_g}$$

\* Transmission en courant (= Gain en courant)

$$T_i = \frac{I_2}{I_1} = - \frac{Z_{21}}{Z_{22} + R_L} = \frac{h_{21}}{1 + h_{22} R_L} = - \frac{1}{D + C R_L}$$

\* Transmission en tension (= Gain en tension)

$$T_v = \frac{V_2}{V_1} = \frac{V_2}{V_1} = \frac{V_2}{I_2} \cdot \frac{I_2}{I_1} \cdot \frac{I_1}{V_1} = - R_L \cdot T_i \cdot \frac{1}{Z_e}$$

$$T_v = \frac{Z_{21} R_L}{Z_{11} R_L + Z_{11} Z_{22} - Z_{12} Z_{21}} = \frac{-h_{21}}{h_{11} h_{22} - h_{12} h_{21} + h_{11} R_L^{-1}} = \frac{R_L}{A R_L + B}$$



## Exercice 1




on observe que  $I_1 = -I_2$ . En outre  $V_1 = V_2 + RI_1 = V_2 - RI_2$ . Ces équations pourraient être présentées sous les formes suivantes.

$$\begin{cases} V_1 = V_2 - RI_2 \\ I_1 = -I_2 \end{cases} \Rightarrow \begin{matrix} A=1 & B=R \\ C=0 & D=1 \end{matrix}$$

$$\begin{cases} I_1 = \frac{V_1}{R} - \frac{V_2}{R} \\ I_2 = -\frac{V_1}{R} + \frac{V_2}{R} \end{cases} \Rightarrow \begin{matrix} Y_{11} = \frac{1}{R} & Y_{12} = -\frac{1}{R} \\ Y_{21} = -\frac{1}{R} & Y_{22} = \frac{1}{R} \end{matrix}$$

On remarque que le Déterminant de la matrice admittance est nul  $\Rightarrow$  Elle n'est pas inversible  $\Rightarrow$  matrice d'impédance indéfinie



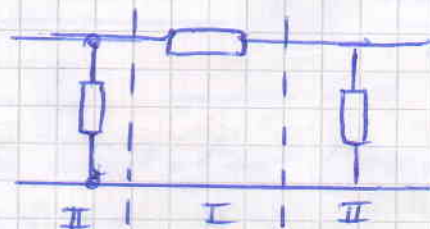
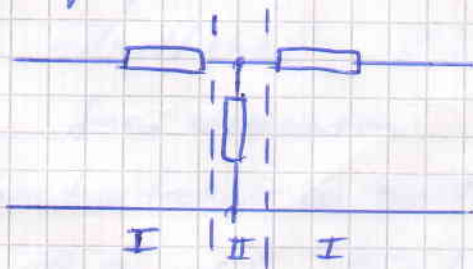
$V_1 = V_2$  et  $V_1 = R(I_1 + I_2)$ . Ce qui peut être écrit comme suit

$$\begin{cases} V_1 = V_2 \\ I_1 = \frac{V_2}{R} - I_2 \end{cases} \Rightarrow \begin{matrix} A=1 & B=0 \\ C=\frac{1}{R} & D=1 \end{matrix}$$


$$\begin{cases} V_1 = RI_1 + RI_2 \\ V_2 = RI_1 + RI_2 \end{cases} \Rightarrow \begin{matrix} Z_{11} = R & Z_{12} = R \\ Z_{21} = R & Z_{22} = R \end{matrix}$$

Le Déterminant de la matrice impédance étant nul, la matrice admittance n'est pas définie

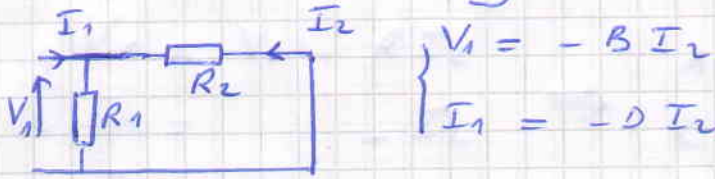
Les montages (III) et (IV) sont obtenus  $\approx$  par les montages (I) et (II) par une association cascade



# Methodes de court-circuit et de circuit-ouvert



\*  $V_2 = 0$  (Sortie court-circuit) - La résistance  $R_3$  est court-circuitée, elle ne joue aucun rôle - on a le montage équivalent




$R_1$  et  $R_2$  se retrouvent en parallèle

$$V_1 = -R_2 I_2 \Rightarrow B = R_2$$

Diviseur de courant  $I_2 = -I_1 \cdot \frac{R_1}{R_1 + R_2}$ . Faire attention au signe (-),  $I_1$  et  $I_2$  sont tous les deux entrants  $\Rightarrow D = \frac{R_1 + R_2}{R_1}$

\*  $I_2 = 0$  (Sortie en circuit ouvert) -  $R_2$  et  $R_3$  se retrouvent en série



Diviseur de tension :  $V_2 = V_1 \cdot \frac{R_3}{R_2 + R_3} \Rightarrow A = \frac{R_2 + R_3}{R_3}$

$$C = \frac{I_1}{V_2} = \frac{I_1}{I_3} \cdot \frac{I_3}{V_2}$$

$$I_3 = I_1 \frac{R_1}{R_1 + R_2 + R_3}$$

$$V_2 = R_3 I_3 \Rightarrow C = \frac{R_1 + R_2 + R_3}{R_1 R_3}$$

Conseil : Vérifier l'homogénéité des paramètres à chaque fois

A : sans unité (sans dimension)  $A = \frac{V_1}{V_2} \quad A = \frac{R_2 + R_3}{R_3}$


B : Impédance  $B = -\frac{V_1}{I_2} \quad B = R_2$

C : admittance  $C = \frac{I_1}{V_2} \quad C = \frac{R_1 + R_2 + R_3}{R_1 R_3}$

D : sans dimension  $D = -\frac{I_1}{I_2} \quad D = \frac{R_1 + R_2}{R_1}$

On peut retrouver ces résultats en constatant l'association en cascade


$$\begin{bmatrix} A & B \\ C & D \end{bmatrix} = \begin{bmatrix} 1 & 0 \\ \frac{1}{R_1} & 1 \end{bmatrix} \begin{bmatrix} 1 & R_2 \\ 0 & 1 \end{bmatrix} \begin{bmatrix} 1 & 0 \\ \frac{1}{R_3} & 1 \end{bmatrix}$$



$$V_1 = A V_2 - B I_2$$

$$I_1 = C V_2 - D I_2$$

\*  $V_2 = 0$   $R_2$  est en parallèle avec  $R_3$



$$\begin{cases} V_1 = -B I_2 \\ I_1 = -D I_2 \end{cases}$$

Diviseur de courant:  $I_2 = -I_1 \cdot \frac{R_2}{R_2 + R_3} \Rightarrow D = \frac{R_2 + R_3}{R_2}$

$$B = -\frac{V_1}{I_2} = \frac{V_1}{I_1} \left(-\frac{I_1}{I_2}\right) = \frac{V_1}{I_1} \cdot D$$

$$V_1 = (R_1 + (R_2 \parallel R_3)) I_1 = \frac{R_1 R_2 + R_1 R_3 + R_2 R_3}{R_2 + R_3} I_1 \Rightarrow B = \frac{R_1 R_2 + R_1 R_3 + R_2 R_3}{R_2}$$

\*  $I_2 = 0$  la résistance  $R_3$  est en l'air, elle ne joue aucun rôle.

$R_1$  est en série avec  $R_2$



$$\begin{cases} V_1 = A V_2 \\ I_1 = C V_2 \end{cases}$$

Diviseur de tension:  $V_2 = V_1 \cdot \frac{R_2}{R_1 + R_2} \Rightarrow A = \frac{R_1 + R_2}{R_2}$

$$V_2 = R_2 I_1 \Rightarrow C = \frac{1}{R_2}$$


On peut retrouver ces résultats en utilisant l'association en cascade.

$$\begin{bmatrix} A & B \\ C & D \end{bmatrix} = \begin{bmatrix} 1 & R_1 \\ 0 & 1 \end{bmatrix} \begin{bmatrix} 1 & 0 \\ \frac{1}{R_2} & 1 \end{bmatrix} \begin{bmatrix} 1 & R_3 \\ 0 & 1 \end{bmatrix}$$

### Exercice 2

Le quadripôle fig. 2 est la mise en parallèle de (I) avec (IV). La matrice admittance équivalente est égale

à la somme des matrices admittance

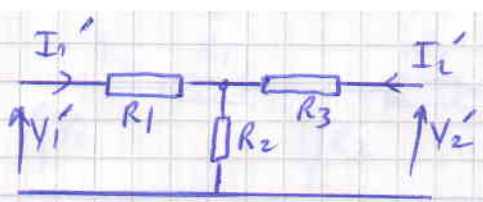


$$Y_{11} = \frac{1}{R_4}$$

$$Y_{12} = -\frac{1}{R_4}$$

$$Y_{21} = -\frac{1}{R_4}$$

$$Y_{22} = \frac{1}{R_4}$$



$$Y_{11}' = \frac{R_2 + R_3}{R_1 R_2 + R_1 R_3 + R_2 R_3}$$

$$Y_{21}' = -\frac{R_2}{R_1 R_2 + R_1 R_3 + R_2 R_3}$$

$$Y_{12}' = -\frac{R_2}{R_1 R_2 + R_1 R_3 + R_2 R_3}$$

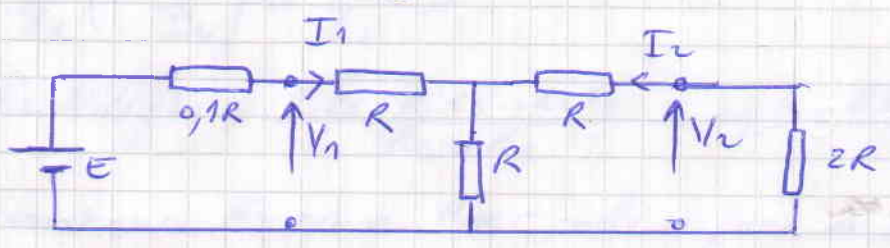
$$Y_{22}' = \frac{R_1 + R_2}{R_1 R_2 + R_1 R_3 + R_2 R_3}$$

Ces paramètres peuvent être calculés par les méthodes de court-circuit (entrée et sortie) ou bien déduits des paramètres de chaîne calculés précédemment.

$$\Rightarrow Y_{11} = Y_{11}' + Y_{11}'' \quad Y_{12} = Y_{12}' + Y_{12}''$$

$$Y_{21} = Y_{21}' + Y_{21}'' \quad Y_{22} = Y_{22}' + Y_{22}''$$

Exercice 3



\* Impédance d'entrée

$$Z_e = \frac{A \cdot R_L + B}{C \cdot R_L + D} \quad \text{ou bien la calculer directement}$$

$$\begin{cases} A = 2 & B = 3R \\ C = \frac{1}{R} & D = 2 \end{cases} \quad R_L = 2R \quad \Rightarrow \quad Z_e = \frac{7R}{4}$$

ou bien  $Z_e = \frac{V_1}{I_1} = R + [R \parallel (R + 2R)] = \frac{7R}{4}$

\* Impédance de sortie

$$Z_s = \frac{B + D R_g}{A + C R_g} = \frac{3R + 0,2R}{2 + 0,1} = \frac{32}{21} R$$

ou bien  $Z_s = R + (R \parallel (R + 0,1R)) = \frac{32}{21} R$

\* Gain en courant

$$T_i = -\frac{1}{D + C R_L} = -\frac{1}{2 + \frac{1}{R} \cdot 2R} = -\frac{1}{4}$$

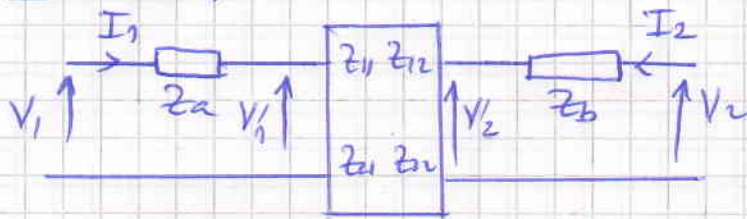
ou bien  $T_2 = -I_2 \cdot \frac{R}{R + R + 2R} \Rightarrow T_1 = -\frac{1}{4}$

\* Gain en tension

$$T_v = \frac{R_L}{A R_L + B} = \frac{2R}{4R + 3R} = \frac{2}{7}$$

ou bien  $T_v = -R_L \cdot T_i \cdot Z_e^{-1} = -2R \cdot (-\frac{1}{4}) \cdot \frac{4}{7R} = \frac{2}{7}$

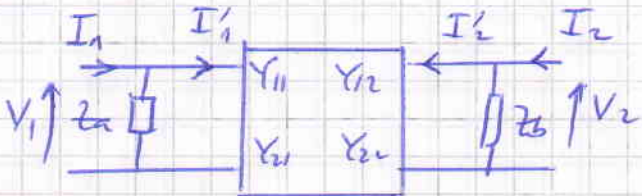
### Exercice 4



$$V_1 = V_1' + z_a I_1$$

$$V_2 = V_2' + z_b I_2$$

$$\begin{cases} V_1' = z_{11} I_1 + z_{12} I_2 \\ V_2' = z_{21} I_1 + z_{22} I_2 \end{cases} \Rightarrow \begin{cases} V_1 = (z_{11} + z_a) I_1 + z_{12} I_2 \\ V_2 = z_{21} I_1 + (z_{22} + z_b) I_2 \end{cases}$$



$$I_1 = \frac{V_1}{z_a} + I_1'$$

$$I_2 = \frac{V_2}{z_b} + I_2'$$

$$\begin{cases} I_1' = Y_{11} V_1 + Y_{12} V_2 \\ I_2' = Y_{21} V_1 + Y_{22} V_2 \end{cases} \Rightarrow \begin{cases} I_1 = \left( Y_{11} + \frac{1}{z_a} \right) V_1 + Y_{12} V_2 \\ I_2 = Y_{21} V_1 + \left( Y_{22} + \frac{1}{z_b} \right) V_2 \end{cases}$$

### Exercice 5

$$V_1 = U_{BE}$$

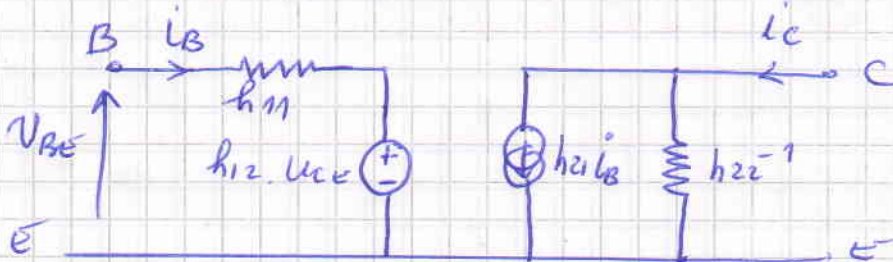
$$V_2 = U_{CE}$$

$$I_1 = i_B$$

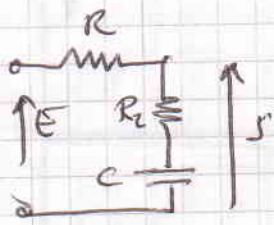
$$I_2 = i_C$$

$h_{12} U_{CE} =$  source liée  $\hat{=} U_{CE}$  (de tension)

$h_{21} i_B =$  source de courant liée  $\hat{=} i_B$



# Corrigé Série 4



$$F(j\omega) = \frac{S}{E} = \frac{R_2 + \frac{1}{j\omega C}}{R_1 + R_2 + \frac{1}{j\omega C}} = \frac{1 + jR_2\omega C}{1 + j(R_1 + R_2)\omega C}$$

soit  $\omega_2 = \frac{1}{R_2 C}$  et  $\omega_1 = \frac{1}{(R_1 + R_2) C}$

$\omega_1 < \omega_2$

$$\Rightarrow F(j\omega) = \frac{1 + j\omega/\omega_2}{1 + j\omega/\omega_1}$$

$$|F(j\omega)| = \frac{\sqrt{1 + \frac{\omega^2}{\omega_2^2}}}{\sqrt{1 + \frac{\omega^2}{\omega_1^2}}} \quad \varphi(j\omega) = \arctg \frac{\omega}{\omega_2} - \arctg \frac{\omega}{\omega_1}$$

$$F_{dB} = 20 \log \sqrt{1 + \frac{\omega^2}{\omega_2^2}} - 20 \log \sqrt{1 + \frac{\omega^2}{\omega_1^2}}$$

soit  $F_{dB} = F_2 + F_1$  avec

$$F_2 = 20 \log \sqrt{1 + \frac{\omega^2}{\omega_2^2}} \quad \text{et} \quad F_1 = -20 \log \sqrt{1 + \frac{\omega^2}{\omega_1^2}}$$

## Tracé asymptotique

$$\omega \rightarrow 0 \quad \left( \begin{array}{l} \omega \ll \omega_1 \Rightarrow \frac{\omega}{\omega_1} \ll 1 \\ \omega \ll \omega_2 \Rightarrow \frac{\omega}{\omega_2} \ll 1 \end{array} \right)$$

$$\left. \begin{array}{l} F_1 \rightarrow 20 \log 1 = 0 \text{ dB} \\ F_2 \rightarrow 20 \log 1 = 0 \text{ dB} \end{array} \right\} \Rightarrow \begin{array}{l} F \rightarrow 0 \text{ dB} \\ \varphi \rightarrow 0 - 0 = 0 \end{array}$$

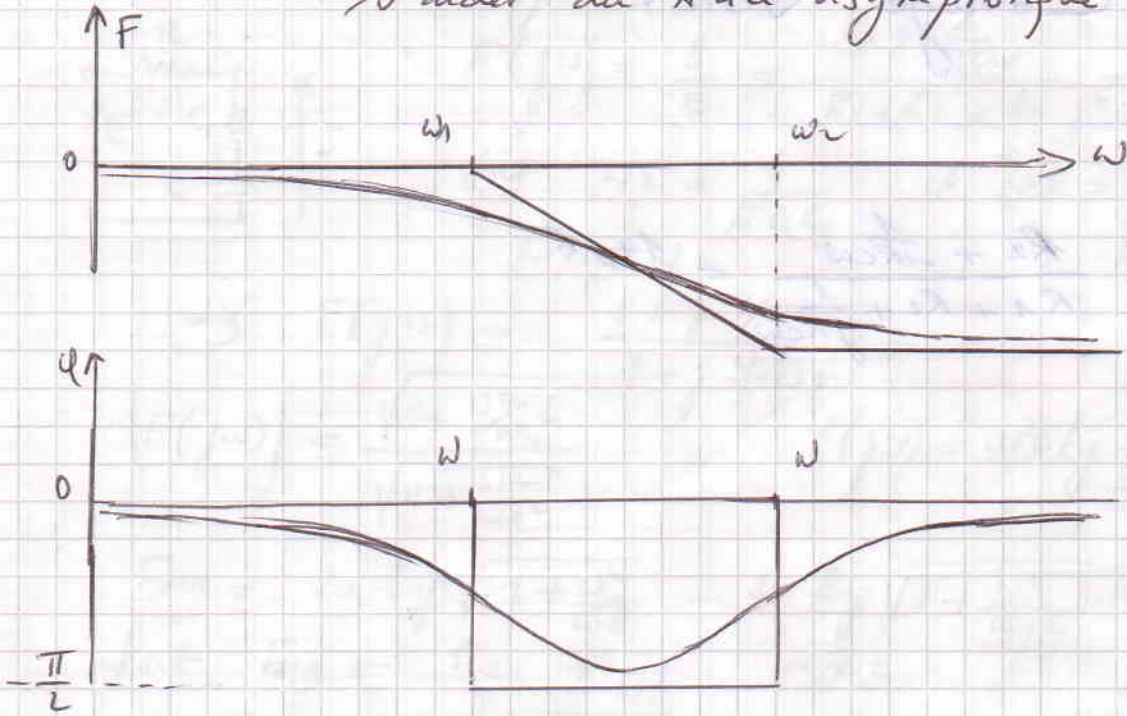
$$\omega_1 \ll \omega \ll \omega_2 \quad \left( \begin{array}{l} \omega \gg \omega_1 \Rightarrow \frac{\omega}{\omega_1} \gg 1 \\ \omega \ll \omega_2 \Rightarrow \frac{\omega}{\omega_2} \gg 1 \end{array} \right)$$

$$\begin{array}{l} F_1 \rightarrow -20 \log \frac{\omega}{\omega_1} \quad \text{pente } -20 \text{ dB/décade ou } -6 \text{ dB/octave} \\ F_2 \rightarrow 0 \quad \Rightarrow \quad F \rightarrow \text{droite pente } -6 \text{ dB/octave} \\ \varphi \rightarrow 0 - \frac{\pi}{2} = -\frac{\pi}{2} \end{array}$$

$\omega \gg \omega_2, \omega \rightarrow \infty$

$$\begin{array}{l} F_1 \rightarrow -20 \log \frac{\omega}{\omega_1} \quad \text{pente } -6 \text{ dB/octave} \\ F_2 \rightarrow 20 \log \frac{\omega}{\omega_2} \quad \text{pente } +6 \text{ dB/octave} \\ \Rightarrow F \rightarrow 0 \\ \varphi \rightarrow \frac{\pi}{2} - \frac{\pi}{2} = 0 \end{array}$$

Tracé réel : Calculer  $F$  pour  $\omega = \omega_1$ ,  $\omega = \omega_2$  et s'arrêter du tracé asymptotique



$$\omega = \omega_1, \quad F = 20 \log \sqrt{1 + \left(\frac{R_2}{R_1 + R_2}\right)^2} - 20 \log \sqrt{1 + 1}$$

$$F = 20 \log \sqrt{1 + \left(\frac{R_2}{R_1 + R_2}\right)^2} - 3 \text{ dB}$$


$$\varphi = \arctan \frac{R_2}{R_1 + R_2} - \frac{\pi}{4}$$

$$\omega = \omega_2, \quad F = 20 \log \sqrt{1 + 1} - 20 \log \sqrt{1 + \left(\frac{R_1 + R_2}{R_2}\right)^2}$$

$$F = 3 \text{ dB} - 20 \log \sqrt{1 + \left(\frac{R_1 + R_2}{R_2}\right)^2}$$

$$\varphi = \frac{\pi}{4} - \arctan \frac{R_1 + R_2}{R_2}$$






# Examen 2 : Diodes

Rappels : Diode  A = anode  
K = cathode

si  $V_{AK} > 0$  ( $V_A > V_K$ ) la diode est polarisée en direct, elle conduit

si  $V_{AK} < 0$  ( $V_A < V_K$ ) la diode est polarisée en inverse, elle est bloquée

Diode idéale = interrupteur fermé (polarisation directe)  
ouvert (polarisation inverse)

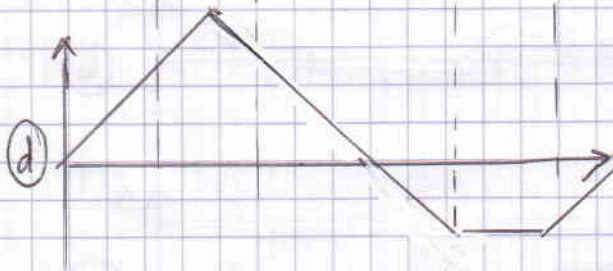
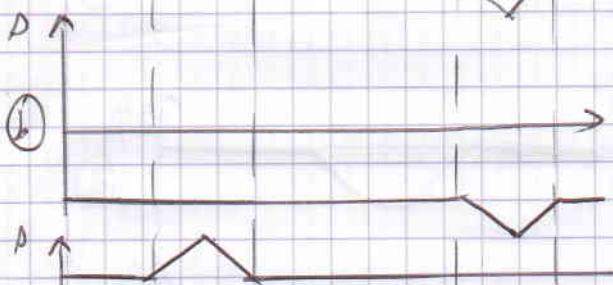
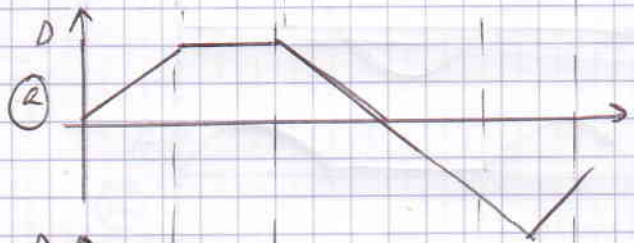
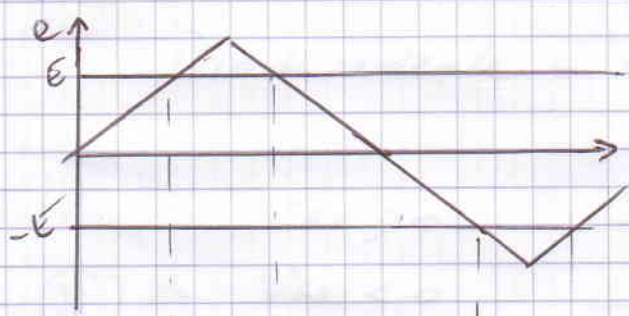


redresseurs mono alternance

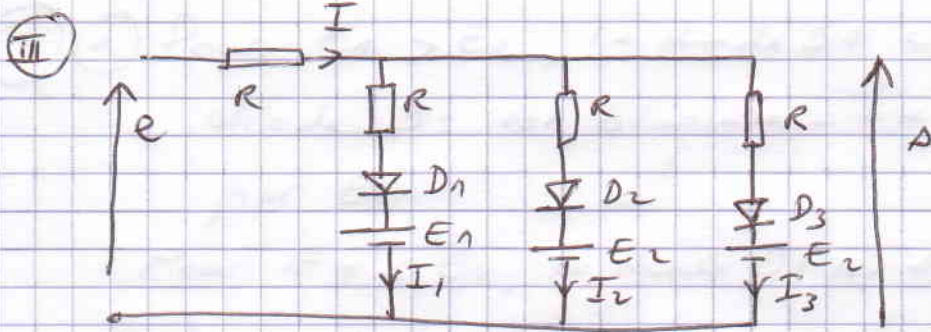
Décteur de crête (valeur maximale) - Le condensateur reste chargé à la valeur max de e.



- II
- a)  $e > E \Rightarrow \Delta = E$  (D passant)  
 $e < E \Rightarrow \Delta = e$  (D bloquée)
- b)  $e > -E \Rightarrow \Delta = -E$  (D passant)  
 $e < -E \Rightarrow \Delta = e$  (D bloquée)
- c)  $e < E \Rightarrow \Delta = E$  (D passant)  
 $e > E \Rightarrow \Delta = e$  (D bloquée)
- d)  $e > E \Rightarrow \Delta = e$  (D bloquée)  
 $e < -E \Rightarrow \Delta = -E$  (D passant)



Circuits émetteurs simples et double



$$\Delta = e - RI \quad I = I_1 + I_2 + I_3$$

\*  $e < E_1 \Rightarrow D_1, D_2, D_3$  bloquées  $I = 0 \Rightarrow \Delta = e$

\*  $E_1 < e < E_2 \Rightarrow D_1$  conduit,  $D_2, D_3$  bloquées  $\Rightarrow I = I_1$   
 ( $I_1 \neq 0$ ) ( $I_2 = 0, I_3 = 0$ )

$$\Delta = e - RI_1$$

$$\Delta = E_1 + RI_1 \Rightarrow RI_1 = \Delta - E_1 \Rightarrow \Delta = e - \Delta + E_1 \Rightarrow$$

$$\Delta = \frac{1}{2}e + \frac{E_1}{2}$$

\*  $E_2 < e < E_3 \Rightarrow D_1, D_2$  conduisent  
 $D_3$  bloquée

$$\Delta = e - RI_1 - RI_2$$

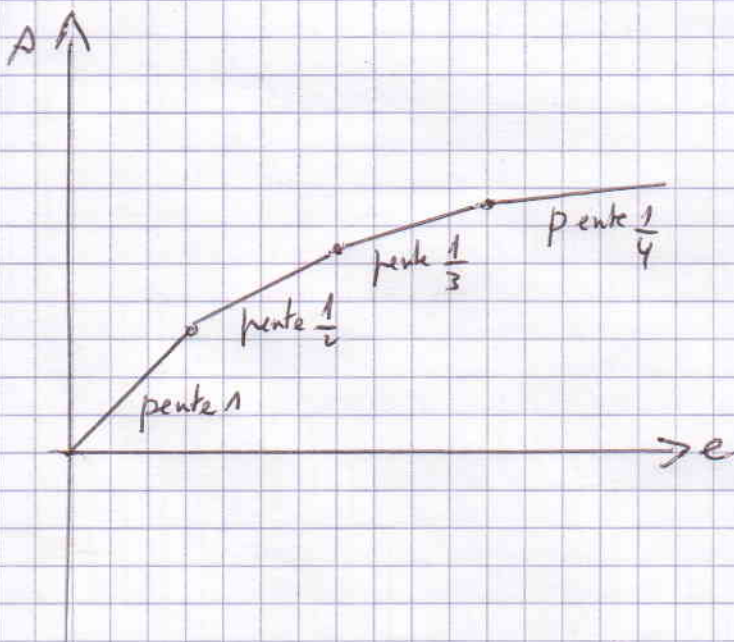
$$RI_1 = \Delta - E_1 \text{ et } RI_2 = \Delta - E_2 \Rightarrow \Delta = \frac{1}{3}e + \frac{E_1 + E_2}{3}$$

\*  $E_3 < e \Rightarrow D_1, D_2, D_3$  conduisent

$$\Delta = e - R(I_1 + I_2 + I_3) \text{ et } RI_1 = \Delta - E_1, RI_2 = \Delta - E_2$$

$$RI_3 = \Delta - E_3$$

$$\Rightarrow \Delta = \frac{1}{4}e + \frac{E_1 + E_2 + E_3}{4}$$



Conformateur de courbes  
 (en brisant la droite en des points choisis, on obtient des courbes)

IV a) Pour  $E_1 > E_2$ , la diode  $D_1$  conduit et la diode  $D_2$  est bloquée - La lampe est alimentée par  $E_1$

Pour  $E_1 < E_2$ , la diode  $D_1$  est bloquée et la diode  $D_2$  conduit - la lampe est alimentée par  $E_2$

b) si une des entrées est  $\geq 5V$ , la diode correspondante conduit, la sortie  $A$  est  $\geq 5V$

c) si les 2 diodes sont  $\geq 5V$ , elles sont alors bloquées, pas de courant, la sortie est alors  $\geq 5V$

		A
0V	0V	0V
0V	5V	5V
5V	0V	5V
5V	5V	5V

opérateur logique OU  
(OR)

		A
0V	0V	0V
0V	5V	0V
5V	0V	0V
5V	5V	5V

opérateur logique ET  
(AND)