

RDA GM

II- Deux cylindres sont collés comme l'indique la figure (2.b). La résistance à la rupture par traction de la colle est de 240 daN/cm^2 , sa résistance pratique au cisaillement est de 180 daN/cm^2 . La colle est répartie uniformément sur le cylindre de diamètre 30 mm et de longueur L inconnue. L'effort F supporté par le montage est de 2600 daN . Calculer la longueur « L » minimale à donner au joint collé du montage.

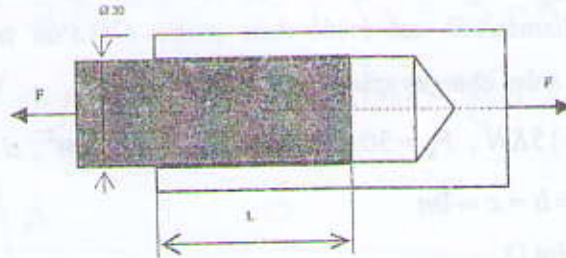


Fig.2b

(N.B : les questions I et II sont indépendantes)

Exercice3 (2+2+1=5pts)

Soit la section définie par la figure 3.

- 1- Déterminer les coordonnées de son centre de gravité G .
- 2- Calculer son moment d'inertie par rapport aux axes ox et oy .
- 3- Déduire son moment d'inertie par rapport aux axes GX et GY , ($ox \parallel GX$ et $oy \parallel GY$).

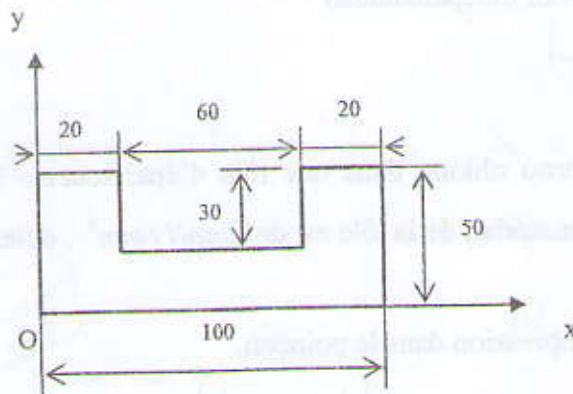


Fig.3

Exercice4 (2.5+1.25+1.25=5pts)

Les sections extrêmes d'un arbre de diamètre $d = 30 \text{ mm}$, de longueur $L = 3 \text{ m}$, ont tourné l'une par rapport à l'autre d'un angle de 4 degrés. L'arbre est en acier : $G = 8 \times 10^4 \text{ N/mm}^2$.

- 1- Déterminer la contrainte tangentielle τ_{max} dans cet arbre.

Déduire la valeur de la déformation.

- 2- Quelle est la valeur du moment de torsion M_t qui le sollicite.

- 3- Déduire la puissance transmise sachant que la vitesse de rotation est 1000 tr/min .

Corrigé de l'EMD RDM (GM) 2012

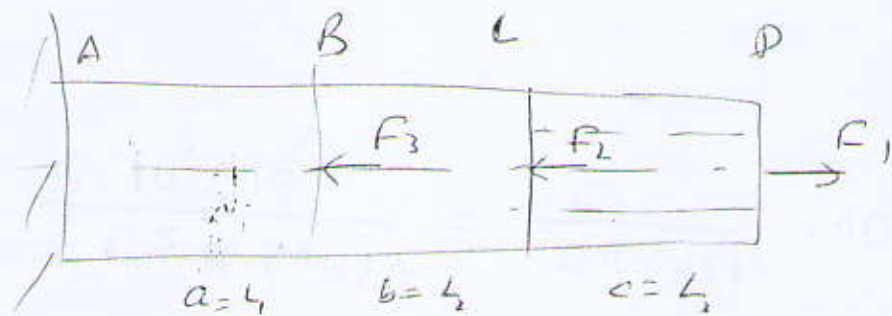
Exo 1 (3,5 + 1,5 pts)

$E = 2 \cdot 10^5 \text{ N/mm}^2$, $D = 2d$, $d = 15 \text{ mm}$.

$L_1 = L_2 = L_3 = 1 \text{ m}$.

$F_1 = 20 \text{ kN}$, $F_2 = 15 \text{ kN}$, $F_3 = 30 \text{ kN}$.

I Calculons l'allongement total. (1+1+1+0,5=3,5pts)



* zone CD.

$\Delta L = \frac{NL}{ES}$

$\Delta L_1 = \frac{N_1 \cdot L_1}{E S_1}$

avec $L_1 = L$, $S_1 = \frac{\pi}{4} (D^2 - d^2)$

$S_1 = \frac{\pi}{4} (4d^2 - \frac{d^2}{0,25})$

$N_1 = F_1$

$\Delta L_1 = \frac{4 F_1 \cdot L}{(3\pi d^2) E}$ 0,25

A.N.

$\Delta L_1 = \frac{4 \times 20 \cdot 10^3 \cdot 10^3}{(3\pi (15)^2) \cdot 2 \cdot 10^5} = \frac{8}{2 \cdot 3\pi (15)^2} \cdot \frac{10^7}{10^5}$

$\Delta L_1 = 0,18972 \text{ mm}$ 0,25

zone BC.

$$\Delta L_2 = \frac{N_2 L_2}{E S_2} \quad \boxed{0,25}$$



traction
0,25

$$N_2 = F_1 - F_2, \quad S_2 = \frac{\pi}{4} (D^2) = \frac{\pi}{4} (2d)^2 = \pi d^2.$$

0,25

$$\boxed{\Delta L_2 = \frac{(F_1 - F_2) L}{E \cdot \pi d^2}}$$

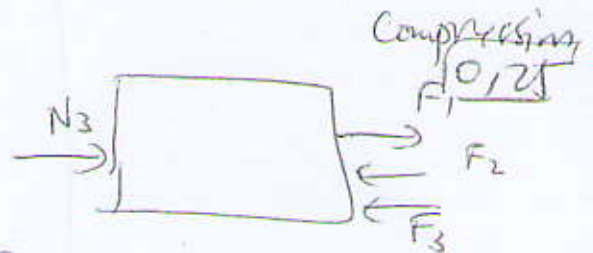
A.N.

$$\Delta L_2 = \frac{5 \cdot 10^3 \cdot 10^3}{2 \cdot 10^5 \cdot \pi (15/2)^2} = \frac{5}{2 \pi (15/2)^2} \cdot 10$$

$$\boxed{\Delta L_2 = + 0,03538 \text{ mm}} \quad \boxed{0,25}$$

zone AB.

$$\Delta L_3 = \frac{N_3 L_3}{E S_3}$$



$$N_3 = F_2 + F_3 - F_1 \quad \boxed{0,25}$$

$$S_3 = \frac{\pi d^2}{4} \quad \boxed{0,25}$$

$$\boxed{\Delta L_3 = \frac{(F_2 + F_3 - F_1) L}{E \pi d^2}}$$

A.N.

$$\Delta L_3 = \frac{(15 + 30 - 20) 10^3 \cdot 10^3}{2 \cdot 10^5 \cdot \pi (15/2)^2} = \frac{25 \cdot 10^6}{2 \cdot \pi (15/2)^2 \cdot 10^5}$$

$$\boxed{\Delta L_3 = - 0,17693 \text{ mm}} \quad \boxed{0,25}$$

$$\Delta L = \Delta L_1 + \Delta L_2 + \Delta L_3 \quad \boxed{0,25}$$

$$\boxed{\Delta L = + 0,0471 \text{ mm}} \quad \boxed{0,25}$$

02. $e = 3 \text{ mm}$, $R_{\sigma} = 25 \text{ daN/mm}^2$

Coef de rupture par cis

$$\sigma \geq R_{\sigma} \cdot 0,5$$



$$\frac{F}{S} \geq R_{\sigma} \Rightarrow F \geq S \cdot R_{\sigma}$$

$$S = (100 \cdot e) \cdot 2 + \pi d \cdot e = e [\pi d + 200]$$

$$S = 3 [200 + 20 \cdot \pi] \cdot 0,5$$

$$F \geq 3(200 + 20\pi) \cdot R_{\sigma}$$

AN

$$F \geq 3(200 + 20\pi) \cdot 25 \Rightarrow F \geq 19712 \text{ daN}$$

$$F_{\min} = 19712 \text{ daN}$$

$$\sigma = \frac{F}{S} \text{ avec } S = 100 \times 20 + \frac{\pi}{4} \cdot (20)^2$$

$$S = 2 \cdot 10^3 + \pi \cdot 10^2 \cdot 0,5$$

$$\sigma = \frac{F}{10^2(\pi + 20)}$$

AN

$$\sigma = \frac{19712}{(\pi + 20) \cdot 10^2}$$

$$\Rightarrow \sigma = 8,52 \text{ daN/mm}^2$$

II. $R_{pf} = 180 \text{ daN/cm}$, $R_r = 240 \text{ daN/cm}^2$.

$F = 2600 \text{ daN}$, $d = 30 \text{ mm}$.

cd de rezistență $\Sigma \leq \frac{0,75}{R_{pf}}$

$\Rightarrow \frac{F}{S} \leq R_{pf}$

$S = \pi d L$

$\Rightarrow \frac{F}{\pi d L} \leq R_{pf} \Rightarrow L > \frac{F}{\pi d R_{pf}}$
 $\frac{1}{0,75}$

AN

$L > \frac{2600}{\pi \cdot 3 \cdot 180} = \frac{260}{5,4\pi} = 1,53 \text{ cm}$

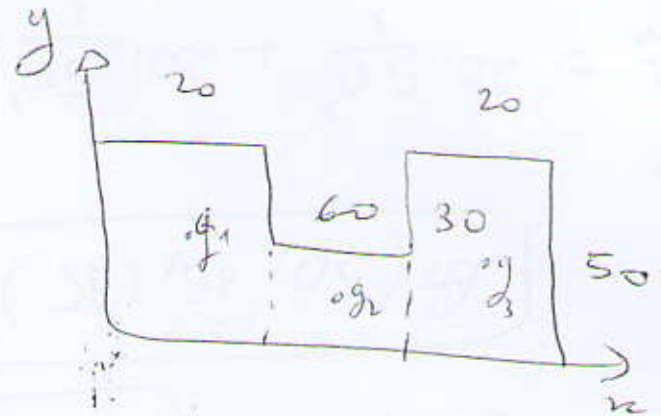
$L_{\min} = 15,33 \text{ mm}$ $\frac{0,15}{}$

EX03.

1. $G(x_G, y_G)$.

• Simetrie de (S) nău două.

$x_G = \frac{100}{2} = 50 \text{ cm}$



• $y_G = \frac{M_S}{S} \text{ cm}$

$M_S = \sum M_S^i = M_S^{(1)} + M_S^{(2)} + M_S^{(3)}$ $0,25$

$M_S^{(1)} = S_1 \cdot d_1$ $\left\{ \begin{array}{l} S_1 = 20 \cdot 20 = 4 \cdot 10^2 \\ d_1 = \frac{50}{2} = 25 \end{array} \right\} 0,25$

$M_S^{(2)} = S_2 \cdot d_2$ $\left\{ \begin{array}{l} S_2 = 60 \cdot 20 = 12 \cdot 10^2 \\ d_2 = 10 \end{array} \right\} 0,25$

$M_S^{(3)} = S_3 \cdot d_3$ $\left\{ \begin{array}{l} S_3 = 20 \cdot 20 = 4 \cdot 10^2 \\ d_3 = 25 \end{array} \right\} 0,25$

$$S^T = 10^3 + 12 \cdot 10^3 + 10^3 = 10^3 (10 + 10 + 12)$$

$$\boxed{S^T = 32 \cdot 10^3}$$

$$M_s = 25 \cdot 10^3 + 12 \cdot 10^3 + 25 \cdot 10^3 = (25 + 25 + 12) \cdot 10^3$$

$$\boxed{M_s = 62 \cdot 10^3 \text{ mm}^4}$$

$$y_G = \frac{62 \cdot 10^4}{32 \cdot 10^3} \Leftrightarrow \boxed{y_G = 19,375 \text{ mm}} \quad \underline{0,25}$$

$$\boxed{G(50, 19,375) \text{ mm}}$$

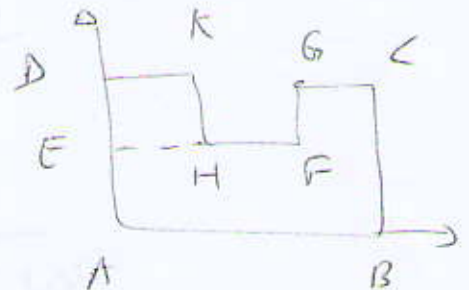
$$I_x = 20 \cdot \frac{50^3}{3} + 20 \cdot \frac{50^3}{3} + 60 \cdot \frac{20^3}{3}$$

$$I_x = \left(\frac{2 \cdot 5^3}{3} \cdot 10^4 \right) \cdot 4 + 6 \cdot \frac{2^3}{3} \cdot 10^4$$

$$I_x = \left(\frac{4}{3} \cdot 5^3 + \frac{6}{3} \cdot 2^3 \right) 10^4 \Rightarrow \boxed{I_x = 182,67 \cdot 10^4 \text{ mm}^4}$$

$$I_y = I_{ABCD} - I_{HFGK}$$

$$I_y = I_{ABCD} - \left[I_{EFGD} - I_{EHKO} \right]$$



$$I_y = 50 \cdot \frac{10^6}{3} - \left[30 \cdot \frac{80^3}{3} - 30 \cdot \frac{20^3}{3} \right]$$

$$I_y = \frac{5}{3} \cdot 10^6 - \left[8 \cdot 10^4 - 8 \cdot 10^4 \right]$$

$$\left\{ \begin{array}{l} I_{Gx} = I_{Ox} - Sd^2 \\ I_{Gy} = I_{Oy} - Sd'^2 \end{array} \right. , \quad d = y_G, \quad d' = x_G \quad \underline{0,3}$$

$$I_{Gx} = (182,67 \cdot 10^4) - (32 \cdot 10^2) \cdot (19,375)^2$$

$$I_{Gx} = 6254,5 \cdot 10^2 \text{ mm}^4 \quad \underline{0,25}$$

$$I_{Gy} = (162,67 \cdot 10^4) - (32 \cdot 10^2) \cdot 50^2$$

$$I_{Gy} = 36267 \cdot 10^2 \text{ mm}^4 \quad \underline{0,25}$$

Exo 4. $d = 30 \text{ mm}$, $L = 3 \text{ m}$, $\alpha = 4^\circ$.

$$G = 8 \cdot 10^4 \text{ N/mm}^2$$

$$1. \tau_{\max} = G \theta_{\max} = G \cdot \frac{\alpha}{L} \cdot \frac{d}{2}$$

$$\tau_{\max} = \frac{G \cdot \alpha \cdot d}{2L} \quad \underline{0,75}$$

AN.

$$\tau_{\max} = \frac{8 \cdot 10^4 \cdot 4\pi}{180} \cdot \frac{30}{2 \cdot 3 \cdot 10^3}$$

$$\tau_{\max} = \frac{4 \cdot 240 \pi}{6 \cdot 18} = \frac{4 \cdot 40 \pi}{18}$$

$$\Rightarrow \tau = 28 \text{ N/mm}^2 \quad \underline{0,5}$$

$$\tau = G \cdot \gamma \Rightarrow \boxed{\gamma = \frac{\tau}{G}}$$

A.N.

$$\gamma = \frac{28}{8 \cdot 10^4} \Rightarrow \boxed{\gamma = 3,5 \cdot 10^{-4}} \quad \underline{0,25}$$

$$\boxed{M_t = G \cdot \gamma \cdot I_0} \quad \left(\text{ou } M_t = \frac{\tau \cdot I_0}{\rho_{\text{max}}} \right)$$

$$\underline{1.N.} \quad M_t = 8 \cdot 10^4 \cdot \frac{4\pi}{180} \cdot \frac{3 \cdot 10^3}{32} \quad \underline{0,25}$$

$$M_t = \frac{\pi^2 \cdot 8 \cdot 9 \cdot 10^4}{18 \cdot 3} \cdot \frac{10}{10} = \frac{3\pi^2}{9} \cdot 10^4 \text{ N.m}$$

$$\boxed{M_t = 150 \text{ N.m}} \quad \underline{0,15}$$

$$3. \quad P = M_t \cdot \omega \Rightarrow \boxed{P = \frac{\pi N}{30} M_t} \quad \underline{0,75}$$

A.N.

$$P = \frac{\pi \cdot 10^3}{30} \cdot 150 = 5\pi \cdot 10^3$$

$$P = 15,7 \cdot 10^3 \text{ W}$$

$$\boxed{P = 15,7 \text{ kW}} \quad \underline{0,15}$$